


Imię i nazwisko ucznia

Klasa

Wypełnia
nauczyciel



Numer
ucznia
w dzienniku

OGÓLNOPOLSKI SPRAWDZIAN KOMPETENCJI TRZECIOKLASISTY 2010

Czas pracy: 2 razy po 45 minut
Liczba punktów do uzyskania: 40

Instrukcja dla ucznia

1. Upewnij się, czy sprawdzian zawiera 12 stron. Jeśli brakuje stron, powiedz o tym nauczycielowi.
2. Na tej stronie u góry wpisz swoje imię i nazwisko oraz klasę.
3. Czytaj uważnie tekst i zadania.
4. Rozwiązania zapisuj długopisem lub piórem. Nie używaj korektora.
5. W zadaniach od 1. do 20. są podane trzy odpowiedzi: A, B, C.
Tylko jedna z nich jest poprawna. Wybierz ją i zaznacz krzyżykiem w odpowiedniej kratce, na przykład gdy wybrałeś odpowiedź „A”:
☒ A. ☐ B. ☐ C.
6. Jeśli się pomylisz, błędne zaznaczenie otocz kółkiem i zaznacz inną odpowiedź krzyżykiem.
☒ A. ☐ B. ☒ C.
7. Rozwiązania zadań od 21. do 25. zapisz czytelnie i starannie w wyznaczonych miejscach. Pomyłki przekreślaj.
8. Ostatnia strona arkusza jest przeznaczona na brudnopis. Zapisy w brudnopisie nie będą sprawdzane.

Powodzenia!

Przeczytaj uważnie tekst.

Tomek nie mógł się doczekać obiecaney wycieczki. W piątek po południu rodzina zaczęła przygotowania. Mama przygotowała swetry i ciepłe kurtki z kapturami, a potem włączyła Internet, wpisała do wyszukiwarki hasło „latarnie morskie polskiego wybrzeża” i zagłębiła się w lekturze. Tata zaś wyjął z szafki aparat fotograficzny i lornetkę.

- Już wiem! – obwieściła mama w pewnej chwili.
- Co już wiesz, mamu? – zainteresował się Tomek.
- Wiem, dokąd jutro pojedziemy!
- Ja też wiem – wzruszył ramionami Tomek. – Do latarni morskiej!
- Synku, w Polsce jest chyba ze dwadzieścia różnych latarni morskich! Musimy wybrać jedną z nich. Proponuję latarnię morską w Świnoujściu. Co wy na to? – spytała mama.
- Ja się zgadzam! – zawołał Tomek.
- Ja też – przytaknął tata. – Jeśli dobrze pamiętam, to latarnia morska w Świnoujściu jest najwyższa w Polsce, tak?
- Tak – skinęła głową mama. – Jej światła są umieszczone 68 metrów nad poziomem morza.
- Zgadnij synku, ile schodów prowadzi na szczyt tej latarni.
- Sto! – zawołał Tomek, bo to była największa liczba, która przyszła mu do głowy.
- Gdyby tam było sto schodów, to pan latarnik nie doszedłby nawet do połowy latarni. Na latarnię morską w Świnoujściu prowadzi aż trzysta schodów! I to krętych schodów! Sto i sto, i jeszcze raz sto.
- Mamu, a pan latarniowiec jeździ na górę szybkobieżną windą?
- Nie mówi się latarniowiec, tylko latarnik. W latarni w Świnoujściu nie ma windy. Jedyną latarnią na polskim wybrzeżu, na której szczyt można wjechać windą, jest latarnia w Porcie Północnym w Gdańsku.

Na podstawie: Małgorzata Barańska, „A może pójdziemy nad morze?”

**Po przeczytaniu tekstu wykonaj zadania.
W każdym zadaniu zaznacz tylko jedną odpowiedź.**

1. Czego Tomek nie mógł się doczekać?

- ☐ A. przygotowań do wycieczki
- ☐ B. obiecaney wycieczki
- ☐ C. powrotu z wycieczki

2. W jakim dniu tygodnia miała się odbyć wycieczka?

- ☐ A. w piątek
- ☐ B. w sobotę
- ☐ C. w niedzielę

3. Kto przygotował na wycieczkę aparat fotograficzny i lornetkę?

- ☐ A. Tomek
- ☐ B. mama
- ☐ C. tata

4. Kiedy mama przygotowała ubrania na wycieczkę?

- ☐ A. w piątek po południu
- ☐ B. w piątek wieczorem
- ☐ C. w sobotę rano

5. Jakie ubrania mama przygotowała na wycieczkę?

- ☐ A. spodnie i płaszcze przeciwdeszczowe
- ☐ B. swetry i kurtki z kapturami
- ☐ C. bluzy i czapki z daszkiem

6. Kto zaproponował zwiedzanie latarni morskiej w Świnoujściu?

- ☐ A. tata
- ☐ B. Tomek
- ☐ C. mama

7. Ile metrów nad poziomem morza są umieszczone światła latarni morskiej w Świnoujściu?

- ☐ A. osiemdziesiąt sześć metrów
- ☐ B. sześćdziesiąt osiem metrów
- ☐ C. sześćdziesiąt sześć metrów

8. W ilu latarniach w Polsce są windy?

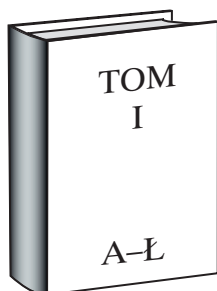
- ☐ A. w jednej
- ☐ B. w trzech
- ☐ C. w żadnej

9. Czy tekst informuje o liczbie latarni morskich w Polsce?

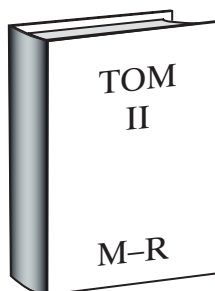
- ☐ A. Nie, nie informuje o tym.
- ☐ B. Tak, informuje w przybliżeniu.
- ☐ C. Tak, informuje dokładnie.

10. Tomek chce poszukać informacji o latarni morskiej w encyklopedii. Z którego tomu powinien skorzystać?

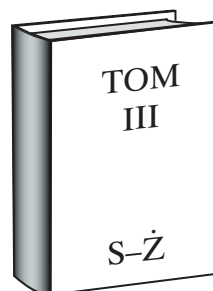
☐ A.



☐ B.



☐ C.



11. Kto obsługuje latarnię morską?

- ☐ A. żeglarz
- ☐ B. latarnik
- ☐ C. rybak

12. Zaznacz alfabetyczną listę nazw sześciu miejscowości, w których znajdują się latarnie morskie.

- ☐ A. Jarosławiec, Jastarnia, Kołobrzeg, Krynica, Stilo, Świnoujście
- ☐ B. Jarosławiec, Jastarnia, Krynica, Kołobrzeg, Stilo, Świnoujście
- ☐ C. Jastarnia, Jarosławiec, Kołobrzeg, Krynica, Stilo, Świnoujście

13. Mama Tomka przeczytała, że światła latarni morskiej w Jastarni są umieszczone na wysokości 22 metrów, a latarni w Krynicy Morskiej na wysokości 53 metrów nad poziomem morza. Oblicz w pamięci, o ile wyżej znajdują się światła latarni w Krynicy Morskiej.

- ☐ A. o 75 metrów
- ☐ B. o 32 metry
- ☐ C. o 31 metrów

14. Rodzina zaczęła przygotowania do wycieczki w piątek o godzinie 15.30. Przygotowania zajęły dwie godziny. O której się zakończyły?

- ☐ A. o 16.30
- ☐ B. o 17.30
- ☐ C. o 18.30

15. Tomek i jego rodzice zwiedzili latarnię morską w Świnoujściu 13 kwietnia. Którą cyfrą rzymską można zastąpić nazwę miesiąca w tej dacie?

- ☐ A. IX
☐ B. VI
☐ C. IV

16. Trzy tygodnie przed wycieczką do Świnoujścia Tomek miał urodziny. Wycieczka odbyła się 13 kwietnia. Którego dnia Tomek się urodził? Skorzystaj z kartek kalendarza.



Marzec

| Pn | Wt | Śr | Cz | Pt | So | N |
|----|----|----|----|----|----|----|
| | | | | 1 | 2 | 3 |
| 4 | 5 | 6 | 7 | 8 | 9 | 10 |
| 11 | 12 | 13 | 14 | 15 | 16 | 17 |
| 18 | 19 | 20 | 21 | 22 | 23 | 24 |
| 25 | 26 | 27 | 28 | 29 | 30 | 31 |



Kwiecień

| Pn | Wt | Śr | Cz | Pt | So | N |
|----|----|----|----|----|----|----|
| 1 | 2 | 3 | 4 | 5 | 6 | 7 |
| 8 | 9 | 10 | 11 | 12 | 13 | 14 |
| 15 | 16 | 17 | 18 | 19 | 20 | 21 |
| 22 | 23 | 24 | 25 | 26 | 27 | 28 |
| 29 | 30 | | | | | |



Maj

| Pn | Wt | Śr | Cz | Pt | So | N |
|----|----|----|----|----|----|----|
| | | 1 | 2 | 3 | 4 | 5 |
| 6 | 7 | 8 | 9 | 10 | 11 | 12 |
| 13 | 14 | 15 | 16 | 17 | 18 | 19 |
| 20 | 21 | 22 | 23 | 24 | 25 | 26 |
| 27 | 28 | 29 | 30 | 31 | | |

- ☐ A. 23 marca
☐ B. 30 marca
☐ C. 4 maja

17. Trzej koledzy Tomka zwiedzili latarnię morską w Świnoujściu w 2009 roku. Janek zwiedził ją we wrześniu, Olek – w marcu, a Wojtek – w lipcu. W jakiej kolejności chłopcy obejrzelili latarnię?

- ☐ A. Janek, Wojtek, Olek
- ☐ B. Olek, Wojtek, Janek
- ☐ C. Wojtek, Janek, Olek

18. Na szczyt latarni morskiej w Świnoujściu prowadzi 300 schodów. Oblicz w pamięci, ile schodów trzeba pokonać, aby znaleźć się w połowie drogi.

- ☐ A. 120
- ☐ B. 150
- ☐ C. 200

19. Z miejscowości, w której mieszka Tomek, do Świnoujścia jest 80 km. Dom Pawła, kuzyna Tomka, znajduje się trzy razy dalej od Świnoujścia. W jakiej odległości od Świnoujścia mieszka Paweł? Oblicz w pamięci.

- ☐ A. 240 km
- ☐ B. 210 km
- ☐ C. 83 km

20. Tomek zaplanował kupno pamiątek z wycieczki. Wziął ze skarbonki 18 zł. Oblicz w pamięci, na co mu wystarczy pieniędzy. Zaznacz odpowiedni punkt.

- ☐ A. pocztówka – 1 zł 50 gr, model latarni morskiej – 8 zł 50 gr, model żaglowca – 9 zł
- ☐ B. komplet pocztówek – 5 zł 50 gr, model latarni morskiej – 8 zł 50 gr, muszelki – 4 zł 50 gr
- ☐ C. statek z muszelek – 6 zł 50 gr, komplet pocztówek – 5 zł 50 gr, model kotwicy – 3 zł 50 gr

22. Oblicz, ile ważyły bagaże, które rodzina Tomka wzięła ze sobą do Świnoujścia. Wiadomo, że:


- plecak mamy ważył 4 kilogramy,
- plecak Tomka ważył 2 kilogramy,
- plecak taty ważył tyle, ile ważyłyby dwa plecaki Tomka,
- tata wziął dodatkowo torbę ze sprzętem fotograficznym, ważącą 3 kilogramy.

Zapisz obliczenia i odpowiedź.




Odpowiedź:

- 23. Tomek buduje z klocków latarnię morską. Zbudował już kwadrat. Czy łączna długość wszystkich boków kwadratu jest dłuższa czy krótsza niż 50 cm? Zapisz obliczenia i uzupełnij odpowiedź.**




Kwadrat z klocków zbudowany przez Tomka



Odpowiedź: Łączna długość boków kwadratu jest
niż 50 cm.

24. Mama Tomka dba o zdrowe odżywianie się rodziny. Na wycieczkę może zabrać produkty przedstawione na ilustracji. Zapisz nazwy czterech produktów, które powinna wybrać mama.



.....

.....

.....

